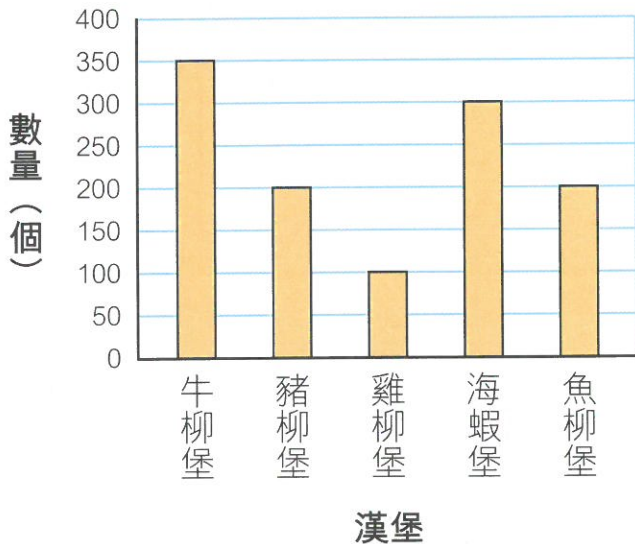


 以下的棒形圖顯示了快餐店下午售出各款漢堡的數量。

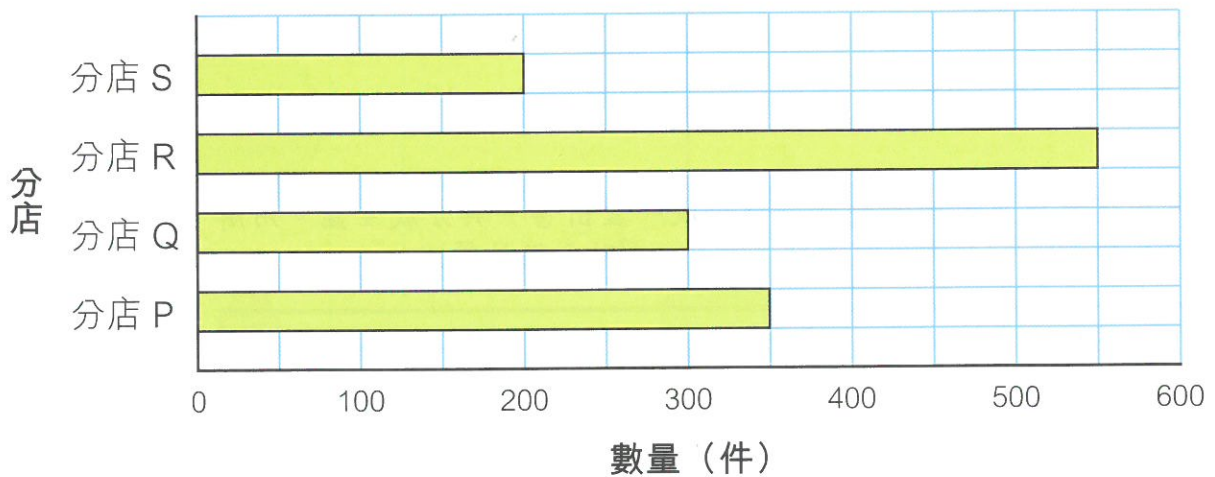
快餐店下午售出各款漢堡的數量



- 售出最多的是 _____ 堡，共售出 _____ 個。
- 售出 _____ 堡和 _____ 堡的數量相同，每款各售出 _____ 個。
- 售出海蝦堡的數量是售出雞柳堡的 _____ 倍。
- 快餐店下午共售出各款漢堡 _____ 個。

 以下的棒形圖顯示了服裝連鎖店各分店上星期售出特別版襯衣的數量。

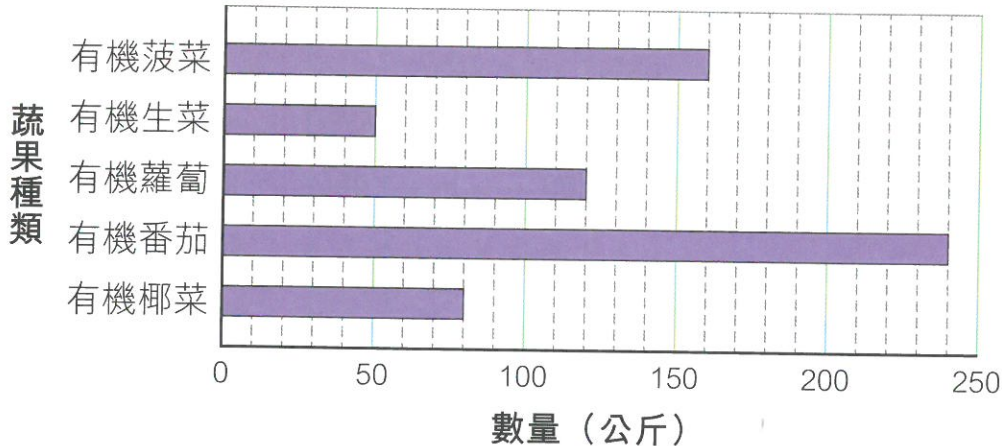
服裝連鎖店各分店上星期售出特別版襯衣的數量



- 售出最多特別版襯衣和售出最少的分店的銷量相差 _____ 件。
- 特別版襯衣每件售 62 元，分店 Q 售出特別版襯衣可收得 _____ 元。
- 在棒形圖上加畫直線，表示上星期各分店平均售出特別版襯衣的數量。

8. 健康蔬果店統計了上星期各款有機蔬果的銷售情況，結果如下。

健康蔬果店上星期售出的各款有機蔬果數量



- (a) 健康蔬果店上星期售出有機蘿蔔和有機 _____ 共 200 公斤。
- (b) 如果每公斤有機菠菜的售價是 18 元，健康蔬果店上星期售出有機菠菜共收得 _____ 元。
- (c) 健康蔬果店打算增加購入上星期售出數量是 K 公斤或以上的有機蔬果。如果只有有機菠菜和有機番茄會增加， K 可能是多少？為甚麼？

答案： K 可能是 _____ ，因為 _____ 。

9. 主辦單位統計了話劇《快樂谷》各天的觀眾人數。根據右圖，以下哪一項描述是正確的？（在 內填上代表答案的字母）

- A. 星期四的觀眾人數是星期三的一半。
- B. 星期六的觀眾人數佔五天總人數的 $\frac{1}{4}$ 。
- C. 星期五的觀眾人數比星期日的多 40 人。
- D. 星期日的觀眾人數是星期三和星期四的總和。

